



ОРИЕНТИРУЙТЕСЬ НА ЗЕМЛЕ И В МИРЕ!

В учебно-методический комплект входят:

- ✓ Ю. Н. Гладкий, В. В. Николина.
География. Учебник. 10 класс
- ✓ Ю. Н. Гладкий, В. В. Николина.
География. Учебник. 11 класс
- ✓ Ю. Н. Гладкий, В. В. Николина.
География. Мой тренажёр. 10–11 классы
- ✓ География. Атлас. 10–11 классы
- ✓ **География. Контурные карты. 10–11 классы**
- ✓ Алексеев А. И., Бахир М. А., Ильинский С. В. и др.
География. Сборник примерных рабочих программ.
Предметная линия «Полярная звезда». 5–11 классы (на сайте)

Официальный интернет-магазин
издательства «Просвещение»
shop.prosv.ru




ПРОСВЕЩЕНИЕ
ИЗДАТЕЛЬСТВО

www.prosv.ru

ISBN 978-5-09-112172-8



9 785091 121728

География

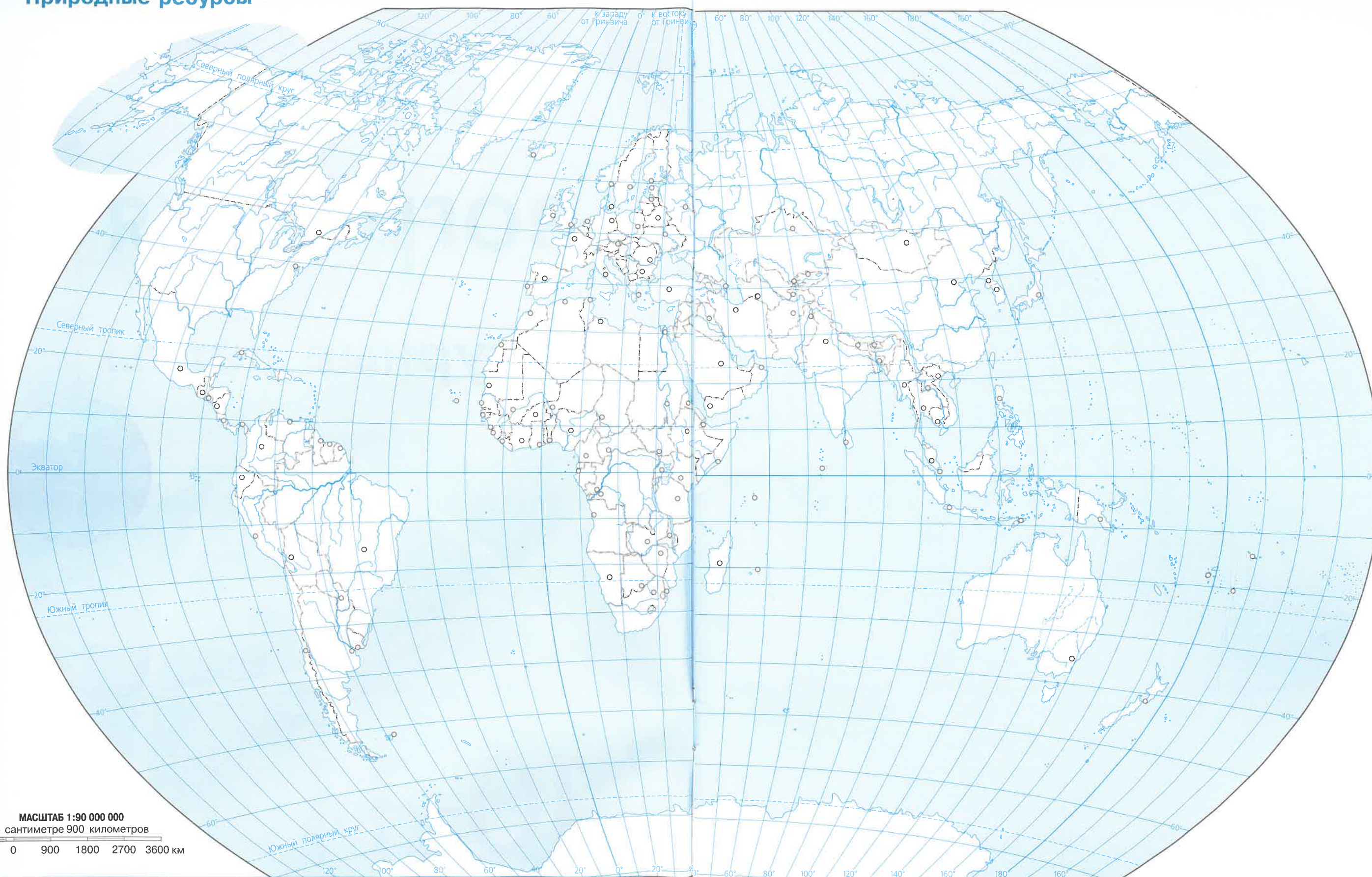
Контурные карты

10–11

КЛАССЫ

МОСКВА «ПРОСВЕЩЕНИЕ» 2024





МАСШТАБ 1:90 000 000
в 1 сантиметре 900 километров

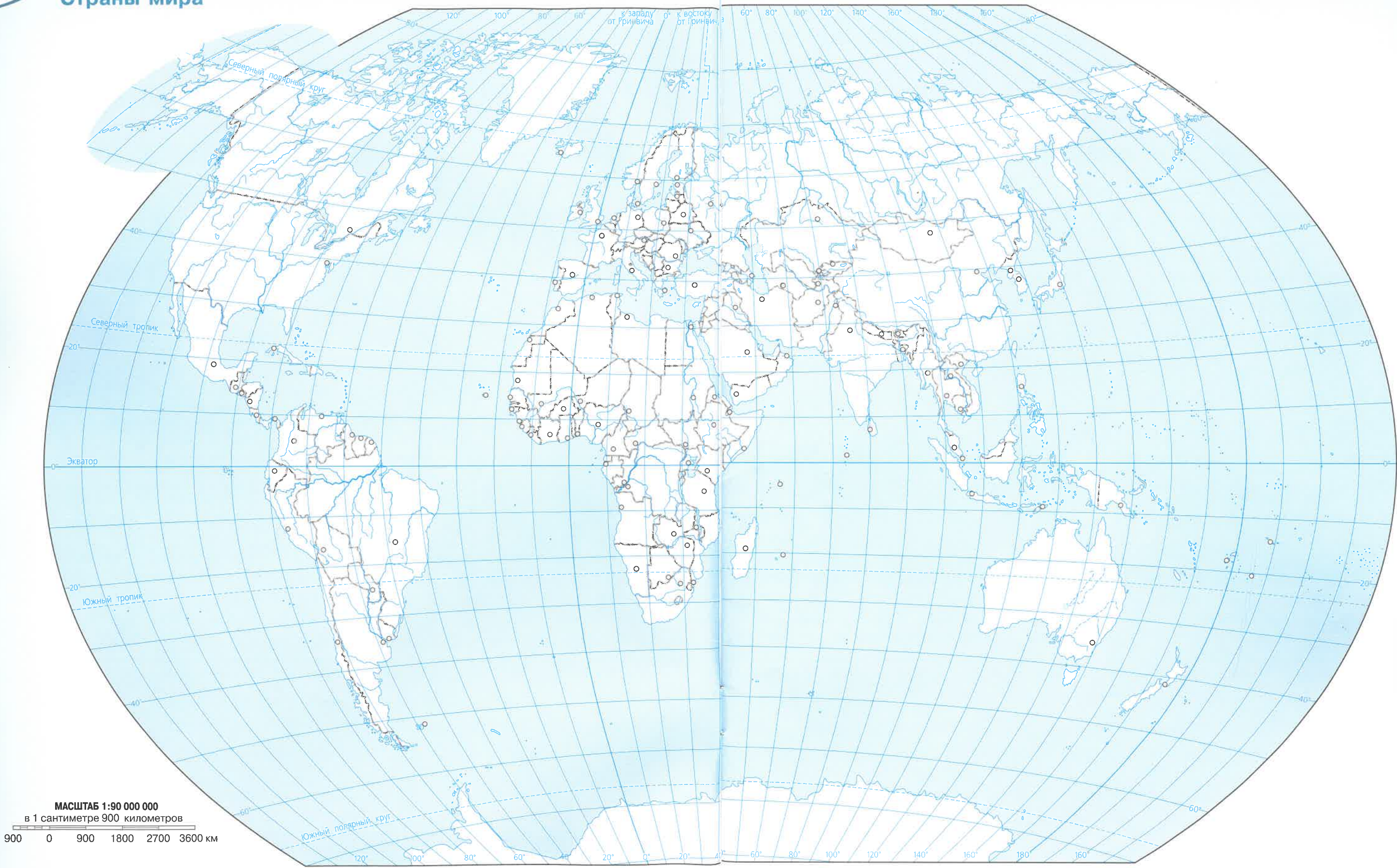
900 0 900 1800 2700 3600 км

Задания

1. Обозначьте условными знаками крупнейшие месторождения полезных ископаемых осадочного и магматического происхождения (в том числе расположенные на континентальном шельфе).
2. Подпишите названия рек, обладающих значительными водными и гидроэнергетическими ресурсами.
3. Выделите границы распространения северного и южного лесных поясов. Подпишите названия стран, в пределах которых расположены основные массивы лесов.
4. Подпишите названия стран, в которых сосредоточены основные массивы земледельческих и пастбищных ландшафтов.

УСЛОВНЫЕ ОБОЗНАЧЕНИЯ

Blank area for the legend (УСЛОВНЫЕ ОБОЗНАЧЕНИЯ).



МАСШТАБ 1:90 000 000
 в 1 сантиметре 900 километров

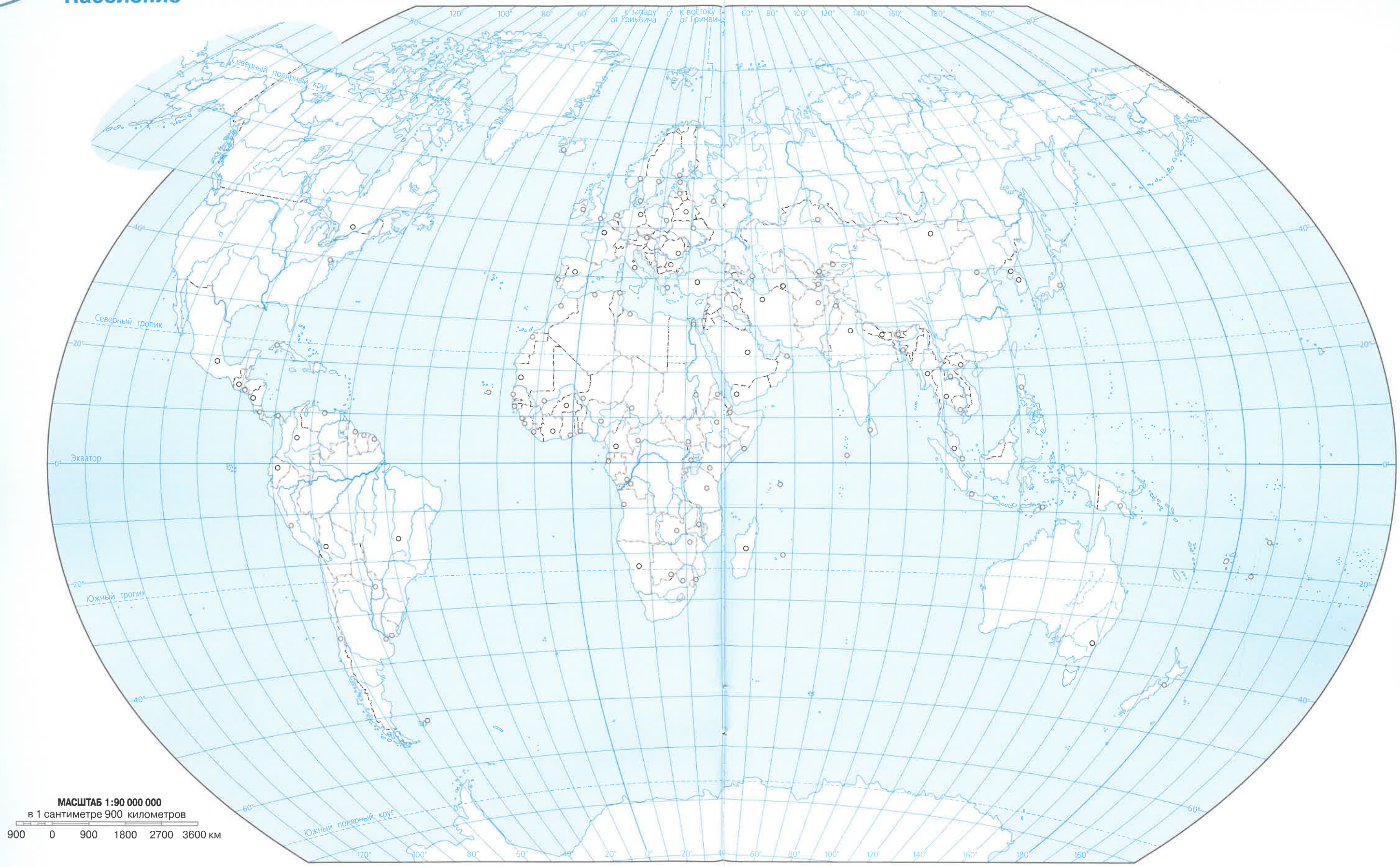
900 0 900 1800 2700 3600 км

Задания

1. Подпишите на карте десять крупнейших по площади стран мира и укажите их столицы.
2. Обозначьте по две страны, имеющие различное географическое положение на материке (внутриконтинентальное, приморское, полуостровное) и расположенные на островах/архипелагах.
3. Подпишите вдоль границ стран, обозначенных при выполнении заданий 1 и 2, к какой группе по форме административно-территориального устройства и форме правления их следует отнести.

УСЛОВНЫЕ ОБОЗНАЧЕНИЯ

Blank box for legend or additional instructions.



Задания

1. Подпишите на карте десять крупнейших по численности населения стран мира и их столицы.
2. Обозначьте штриховкой районы земного шара с максимальной плотностью населения.
3. Покажите стрелками основные направления миграционных потоков в мире. Подпишите названия стран, являющихся крупнейшими центрами миграций.

УСЛОВНЫЕ ОБОЗНАЧЕНИЯ

Blank box for legend entries.

**Задания**

1. Закрасьте синим цветом территории стран-лидеров по добыче нефти, газа и угля и подпишите их названия. Стрелками разного цвета укажите основные направления экспорта данных видов сырья.
2. Обозначьте пять стран, лидирующих в добыче железорудного сырья, и пять стран, лидирующих в производстве чугуна и стали.
3. Обозначьте пять стран, лидирующих в автомобилестроении.
4. Отметьте крупнейшие мировые морские порты, подпишите их названия.
5. Обозначьте города, в которых размещаются крупнейшие по пассажирообороту аэропорты.

УСЛОВНЫЕ ОБОЗНАЧЕНИЯ

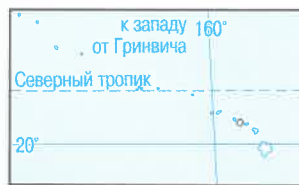


МАСШТАБ 1:90 000 000
 в 1 сантиметре 900 километров

- Задания**
1. Обозначьте штриховкой разного цвета страны, занимающие ведущее положение в производстве пшеницы (жёлтый), риса (серый) и кукурузы (оранжевый), и подпишите их названия. Закрасьте красным цветом единственную страну, лидирующую в производстве всех трёх видов культур.
 2. Обозначьте условными знаками страны, лидирующие в разведении крупного рогатого скота, свиней, овец.

УСЛОВНЫЕ ОБОЗНАЧЕНИЯ

Англо-Саксонская Америка



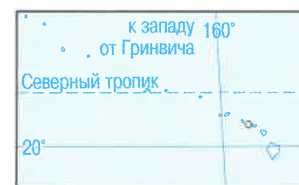
МАСШТАБ 1:40 000 000
в 1 сантиметре 400 километров
400 0 400 800 1200 1600 км

УСЛОВНЫЕ ОБОЗНАЧЕНИЯ

Задания

1. Обозначьте семь городских агломераций США.
2. Покажите разными цветами ареалы размещения главных сельскохозяйственных поясов в пределах США: пшеничного (жёлтый), кукурузного (оранжевый), хлопкового (зелёный).
3. Отметьте цветом главный район лесопереработки Канады.
4. Обозначьте главный железорудный район Канады. Подпишите название провинции, в которой он находится.

Англо-Саксонская Америка



МАСШТАБ 1:40 000 000
в 1 сантиметре 400 километров
400 0 400 800 1200 1600 км

УСЛОВНЫЕ ОБОЗНАЧЕНИЯ

Задания

1. Нанесите основные сухопутные транспортные магистрали стран Англо-Саксонской Америки. Подпишите названия крупных транспортных узлов, расположенных вдоль данных магистралей.
2. Обозначьте крупнейшие морские и озёрные порты США и Канады. Подпишите их названия.
3. Условным знаком покажите специализацию сельского хозяйства Гавайских островов.



УСЛОВНЫЕ ОБОЗНАЧЕНИЯ

МАСШТАБ 1:45 000 000
в 1 сантиметре 450 километров

Задания

1. Отметьте крупнейшие городские агломерации Латинской Америки с численностью населения свыше 10 млн человек. Укажите численность населения в них.
2. Подпишите название языка, на котором говорит большинство жителей каждой из обозначенных агломераций.
3. Обозначьте условным знаком три страны, в которых мужское население преобладает над женским.



УСЛОВНЫЕ ОБОЗНАЧЕНИЯ

Задания

1. Выделите красным цветом три страны, занимающие лидирующее положение в обрабатывающей промышленности.
2. Покажите условными знаками страны специализированного сельскохозяйственного производства (кофе, натуральный каучук, сахарный тростник, бананы).
3. Обозначьте условными линиями Панамериканское шоссе и Трансамазонскую магистраль. Подпишите названия стран региона, по территории которых они проходят.

Зарубежная Европа



МАСШТАБ 1:25 000 000
в 1 сантиметре 250 километров

УСЛОВНЫЕ ОБОЗНАЧЕНИЯ

Задания

1. Отметьте страны, входящие в состав Евросоюза.
2. Выделите границы субрегионов зарубежной Европы.
3. Подпишите в каждом субрегионе самую большую по площади страну, её столицу и форму правления, существующую в этой стране.
4. Отметьте штриховкой страны зарубежной Европы с самой высокой плотностью населения.

Зарубежная Европа



МАСШТАБ 1:25 000 000
в 1 сантиметре 250 километров

УСЛОВНЫЕ ОБОЗНАЧЕНИЯ

Задания

1. Обозначьте крупнейшие промышленные центры зарубежной Европы и укажите их специализацию.
2. Выделите коричневым цветом расположение старопромышленных районов в регионе.
3. Закрасьте штриховкой районы выращивания винограда и районы разведения крупного рогатого скота.

УСЛОВНЫЕ ОБОЗНАЧЕНИЯ

Задания

1. Закрасьте разным цветом территории государств, формы правления которых конституционная (синий) и абсолютная (красный) монархии. Подпишите названия этих государств и их столиц.
2. Обозначьте территории государств региона, получившие суверенитет после распада СССР. Подпишите названия их столиц.



МАСШТАБ 1:45 000 000
в 1 сантиметре 450 километров

УСЛОВНЫЕ ОБОЗНАЧЕНИЯ

Задания

1. Закрасьте территории крупнейших нефтедобывающих и нефтеэкспортирующих стран региона. Подпишите названия этих стран и их столиц.
2. Штриховкой выделите основные районы посевов риса (зелёный), пшеницы (жёлтый), хлопчатника (синий).
3. Подпишите названия крупнейших морских портов.



Африка



УСЛОВНЫЕ ОБОЗНАЧЕНИЯ

МАСШТАБ 1:45 000 000
в 1 сантиметре 450 километров

450 0 450 900 1350 1800 км

Задания

1. Обозначьте страны, имеющие внутриконтинентальное положение. Подпишите названия их столиц.
2. Подпишите названия стран Африки, которые занимают три первых места в регионе по численности населения.
3. Приведите по два примера стран региона, различающихся показателями естественного прироста (наибольший, наименьший).

Африка



УСЛОВНЫЕ ОБОЗНАЧЕНИЯ

МАСШТАБ 1:45 000 000
в 1 сантиметре 450 километров

450 0 450 900 1350 1800 км

Задания

1. Подпишите названия крупнейших стран региона, имеющих монокультурную специализацию сельского хозяйства.
2. Обозначьте наиболее значимые для региона железнодорожные пути.
3. Подпишите крупнейшие морские порты региона и укажите их специализацию.



УСЛОВНЫЕ ОБОЗНАЧЕНИЯ

Задания

1. Подпишите названия крупнейших городов региона. Подчеркните названия тех городов, которые являются центрами административных единиц Австралии.
2. Покажите значками отрасли добывающей промышленности, базирующиеся на полезных ископаемых, по добыче которых Австралия входит в десятку ведущих стран мира.
3. Подпишите названия столиц независимых государств региона.
4. С помощью условных обозначений отразите монокультурную специализацию сельского хозяйства стран Океании.

СОДЕРЖАНИЕ

Человек и ресурсы Земли	
Природные ресурсы	2–3
Политическая карта мира	
Страны мира.....	4–5
География населения	
Население.....	6–7
География мировой экономики	
Промышленность. Транспорт.....	8–9
Сельское хозяйство	10–11
Регионы и страны	
Англо-Саксонская Америка.....	12–13
Латинская Америка.....	14–15
Зарубежная Европа	16–17
Зарубежная Азия.....	18–19
Африка.....	20–21
Австралия и Океания.....	22–23

Государственные границы даны на октябрь 2022 г.

Учебное издание

Серия «Полярная звезда»

География. 10–11 классы. Контурные карты

Контурные карты составлены и подготовлены к изданию
АО «Издательство «Просвещение» в 2017 г.

Автор-составитель А.В. Матвеев

Редактор Е.В. Пилюгина

Редактор карт М.Ю. Ширяева

Художественное оформление серии О.Г. Иванова

Корректор Н.А. Смирнова

Подписано в печать 22.02.2024. Формат 60×90/8. Печ. л. 3,0.
Уч.-изд. л. 5,27. Тираж 12 000 экз. Заказ №0946-24КОС.

АО «Издательство «Просвещение»

Российская Федерация, 127473, г. Москва,

ул. Краснопролетарская, д. 16, стр. 3, помещение 1Н.

Тел.: (495) 789-30-40

Адрес электронной почты «Горячей линии» — vopros@prosv.ru

Отпечатано в АО «Кострома»,

156010, Россия, г.Кострома, ул.Самоковская, 10

ISBN 978-5-09-112172-8

© Географическая основа. Росреестр, 2009
© АО «Издательство «Просвещение», 2024
Все права защищены

МАСШТАБ 1:45 000 000
в 1 сантиметре 450 километров