



12+



ОРИЕНТИРУЙТЕСЬ НА ЗЕМЛЕ И В МИРЕ!

В учебно-методический комплект входят:

- ✓ А. И. Алексеев, В. В. Николина, Е. К. Липкина и др.
География. Учебник. 8 класс
- ✓ В. В. Николина
География. Мой тренажёр. 8 класс
- ✓ География. Атлас. 8–9 классы
- ✓ **География. Контурные карты. 8 класс**
- ✓ С. П. Дубинина
География. Практические работы. 8 класс
- ✓ М. В. Бондарева, И. М. Шидловский
География. Проверочные работы. 8 класс
- ✓ В. В. Николина, А. И. Алексеев, Е. К. Липкина
География. Рабочие программы. 5–9 классы (на сайте)
- ✓ В. В. Николина
География. Поурочные разработки. 8 класс (на сайте)

Официальный интернет-магазин
издательства «Просвещение»
shop.prosv.ru




ПРОСВЕЩЕНИЕ
ИЗДАТЕЛЬСТВО
www.prosv.ru

ISBN 978-5-09-105930-4



9 785091 059304

География

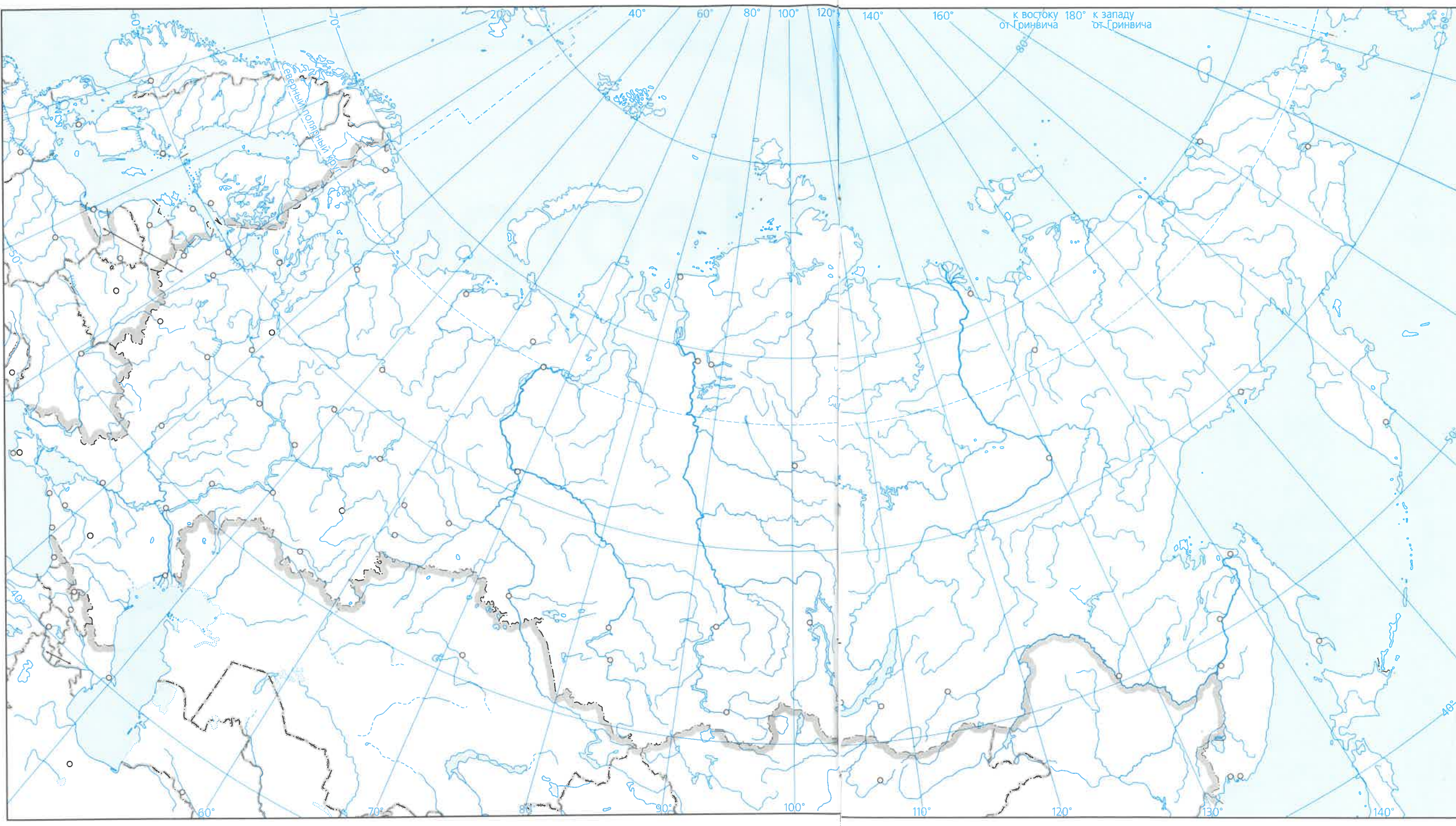
Контурные карты

8

класс

МОСКВА «ПРОСВЕЩЕНИЕ» 2023



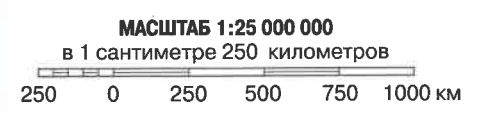


МАСШТАБ 1:25 000 000
 в 1 сантиметре 250 километров

УСЛОВНЫЕ ОБОЗНАЧЕНИЯ

- Задания**
1. Обозначьте красным цветом границу России. Подпишите физико-географические объекты, по которым проходит наша государственная сухопутная граница.
 2. Подпишите водные объекты береговой линии нашей страны.
 3. Обозначьте крайние материковые точки страны. Подпишите названия и укажите рядом их географические координаты.
 4. Выделите синим цветом параллель, указывающую на северное положение нашей страны. Рассчитайте её протяжённость по территории России в градусах. Полученный результат запишите в легенде.

ДАТА



УСЛОВНЫЕ ОБОЗНАЧЕНИЯ

- Задания**
1. Проведите границы географических районов и подпишите их. Заштрихуйте те из них, которые лежат в пределах природного района Русской равнины. (Восточно-Европейская равнина) - см. рис. 9, Ас. 6, 10
 2. Подпишите все субъекты Федерации и их административные центры, входящие в состав самого большого и самого маленького по площади географических районов. - см. рис. 9, Ас 6
 3. Проведите границы каждого из девяти российских краёв, отметьте их административные центры, определите и запишите их координаты. + названия краёв - см. Ас 6.
 4. Проведите границы и подпишите названия макрорегионов.

УСЛОВНЫЕ ОБОЗНАЧЕНИЯ

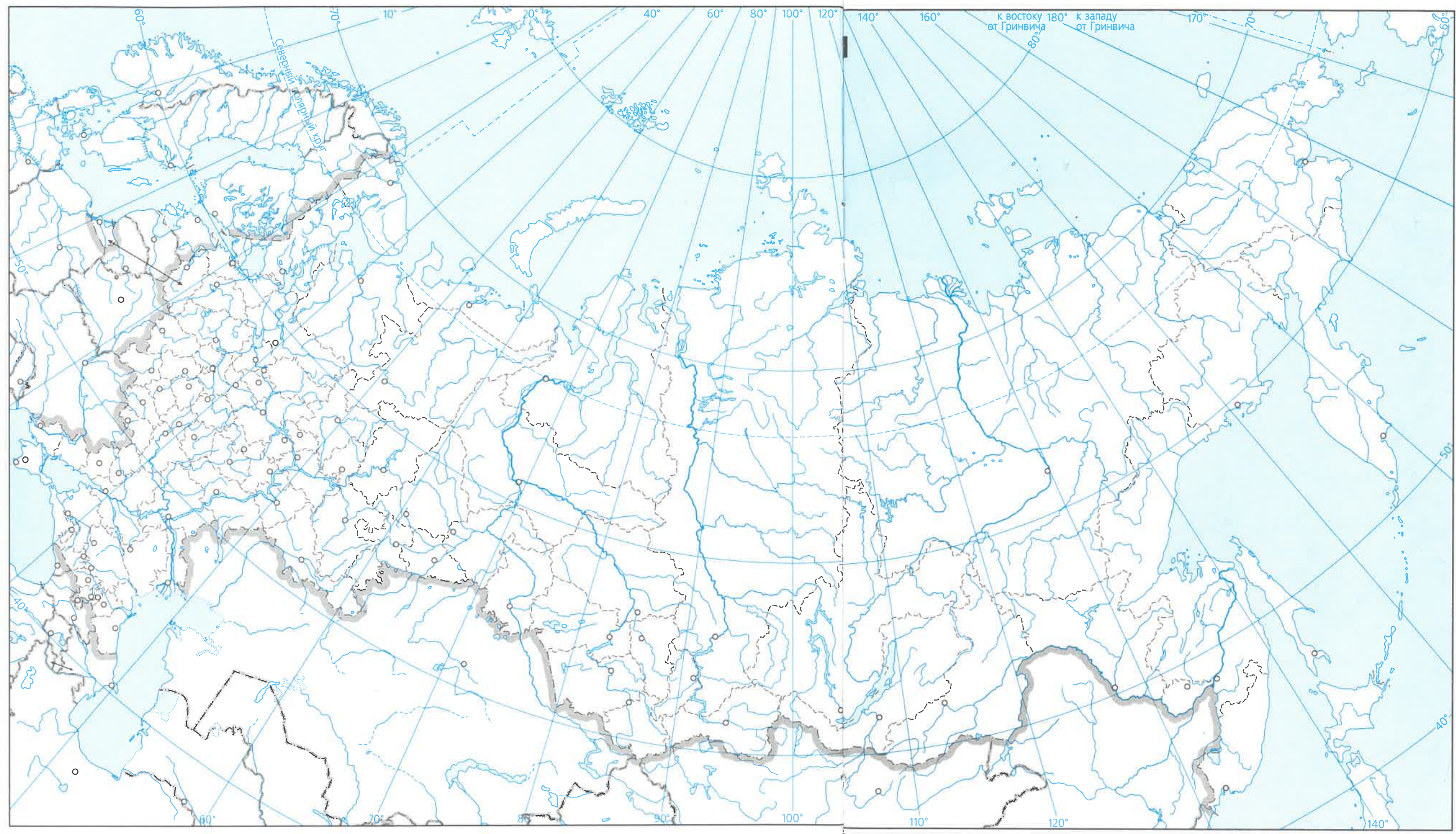


МАСШТАБ 1:25 000 000
 в 1 сантиметре 250 километров

250 0 250 500 750 1000 км

УСЛОВНЫЕ ОБОЗНАЧЕНИЯ

УСЛОВНЫЕ ОБОЗНАЧЕНИЯ



МАСШТАБ 1:25 000 000
 в 1 сантиметре 250 километров

250 0 250 500 750 1000 км

Задания

1. Закрасьте разными цветами по пять субъектов Российской Федерации с наиболее высокими (красным цветом) и наиболее низкими (синим цветом) показателями естественного прироста населения. Подпишите названия выделенных субъектов.
2. Закрасьте по два субъекта Федерации, в которых в возрастной структуре населения преобладают: а) дети и подростки — жёлтым цветом; б) трудоспособное население — зелёным цветом; в) пожилые люди — коричневым цветом. Подпишите названия выделенных субъектов Федерации.
3. Обозначьте границы и подпишите название области, где среди старшего поколения женское население значительно преобладает над мужским.

УСЛОВНЫЕ ОБОЗНАЧЕНИЯ

Blank area for the legend, intended for students to define the symbols and colors used in the map.




МАСШТАБ 1:25 000 000
 в 1 сантиметре 250 километров

250 0 250 500 750 1000 км

Задания

1. Обозначьте на карте города-миллионеры. Подпишите названия и укажите в скобках численность населения данных городов.
2. Проведите границы основной полосы расселения и хозяйственного освоения России и закрасьте её зелёным цветом.
3. Выделите штриховкой субъект Федерации, в котором вы проживаете. Аналогичной штриховкой отметьте ещё три субъекта Федерации с похожим уровнем урбанизации.
4. Отметьте на карте город, название которого начинается на букву, которой заканчивается название населённого пункта, в котором вы живёте. Подпишите субъект Федерации, в котором он находится, а также отметьте уровень урбанизации в нём.

УСЛОВНЫЕ ОБОЗНАЧЕНИЯ





МАСШТАБ 1:25 000 000
 в 1 сантиметре 250 километров

250 0 250 500 750 1000 км

УСЛОВНЫЕ ОБОЗНАЧЕНИЯ

Задания

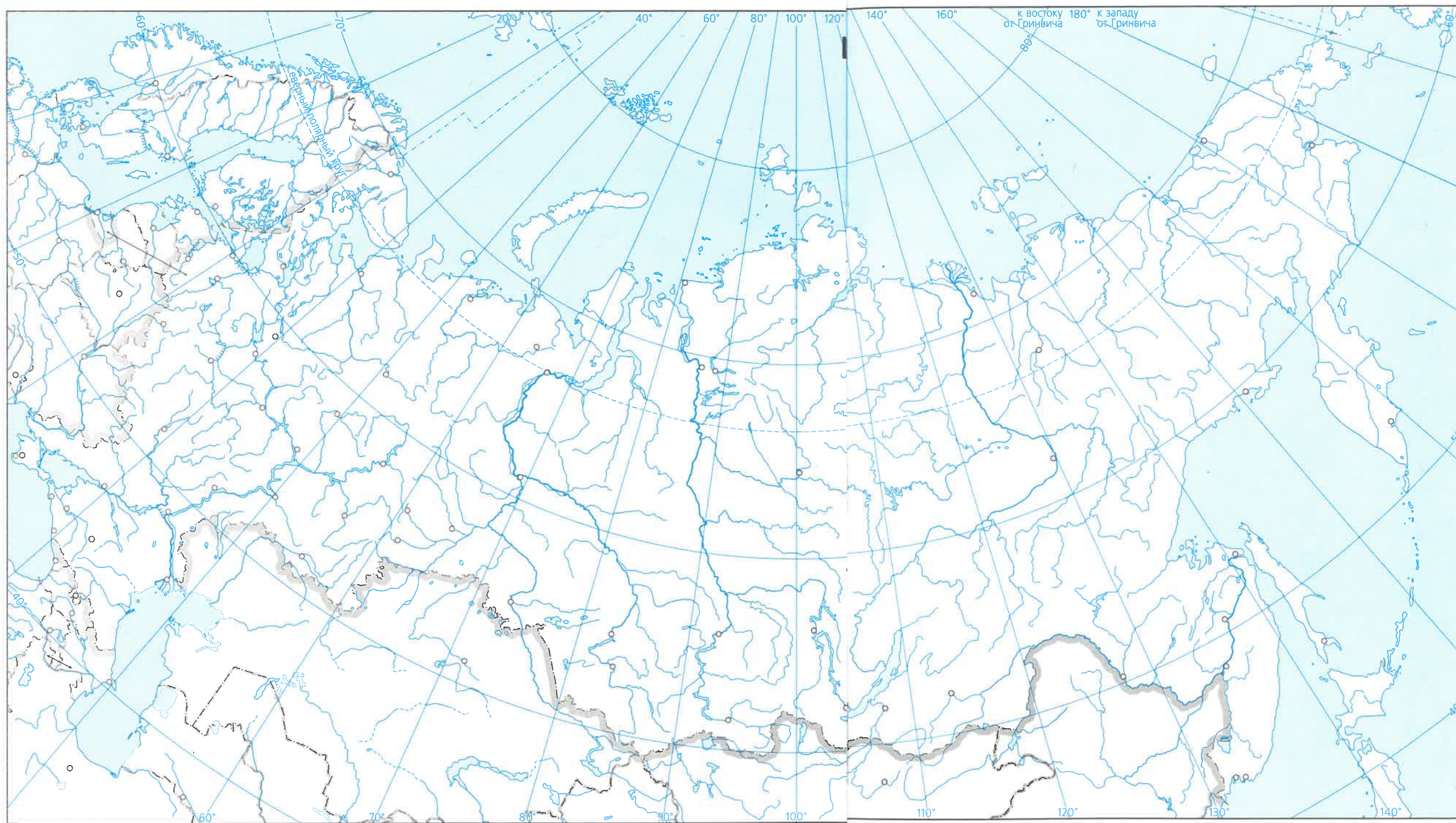
1. В европейской и азиатской частях нашей страны отметьте по одному субъекту Федерации с максимальным (красным цветом) и минимальным (синим цветом) коэффициентом миграционного прироста. Выноской на поля или в легенде дайте объяснение таких показателей для каждого из четырёх отмеченных субъектов Федерации.
2. Стрелками синего цвета покажите направления современных трудовых миграций из соседних государств, красного — направления современных внутренних миграций.



МАСШТАБ 1:25 000 000
 в 1 сантиметре 250 километров
 250 0 250 500 750 1000 км

УСЛОВНЫЕ ОБОЗНАЧЕНИЯ

УСЛОВНЫЕ ОБОЗНАЧЕНИЯ



МАСШТАБ 1:25 000 000

в 1 сантиметре 250 километров

250 0 250 500 750 1000 км

Задания

1. Обозначьте устойчивые участки земной коры в пределах нашей страны. Подпишите названия крупнейших платформ.
2. Обозначьте расположение щитов и подпишите их названия: Алданский, Анабарский, Балтийский, Воронежский массив.
3. Обозначьте расположение Курило-Камчатского глубоководного жёлоба. Подпишите значение его наибольшей глубины.
4. Подпишите горные системы, расположенные вдоль южной сухопутной границы нашей страны. Рядом с названиями в скобках укажите, в какую складчатость они образовались.

УСЛОВНЫЕ ОБОЗНАЧЕНИЯ



МАСШТАБ 1:25 000 000
 в 1 сантиметре 250 километров

250 0 250 500 750 1000 км

Задания

1. Отметьте на карте крайние материковые точки страны, запишите рядом с ними следующие значения: суммарной солнечной радиации; средних температур в июле и январе; среднегодового количества осадков.
2. Произвольными условными знаками отметьте: полюс холода Северного полушария; самое жаркое место в России; территорию с наибольшим и наименьшим количеством осадков. Укажите эти знаки в легенде.
3. Отметьте на карте перечисленные города и подпишите их названия: Москва, Салехард, Мурманск, Анадырь, Астрахань, Симферополь, Тюмень, Чита, Хабаровск, Петропавловск-Камчатский. Подпишите значения средних температур января и июля и среднегодового количества осадков, характерных для данных городов.

УСЛОВНЫЕ ОБОЗНАЧЕНИЯ

Blank box for legend entries.



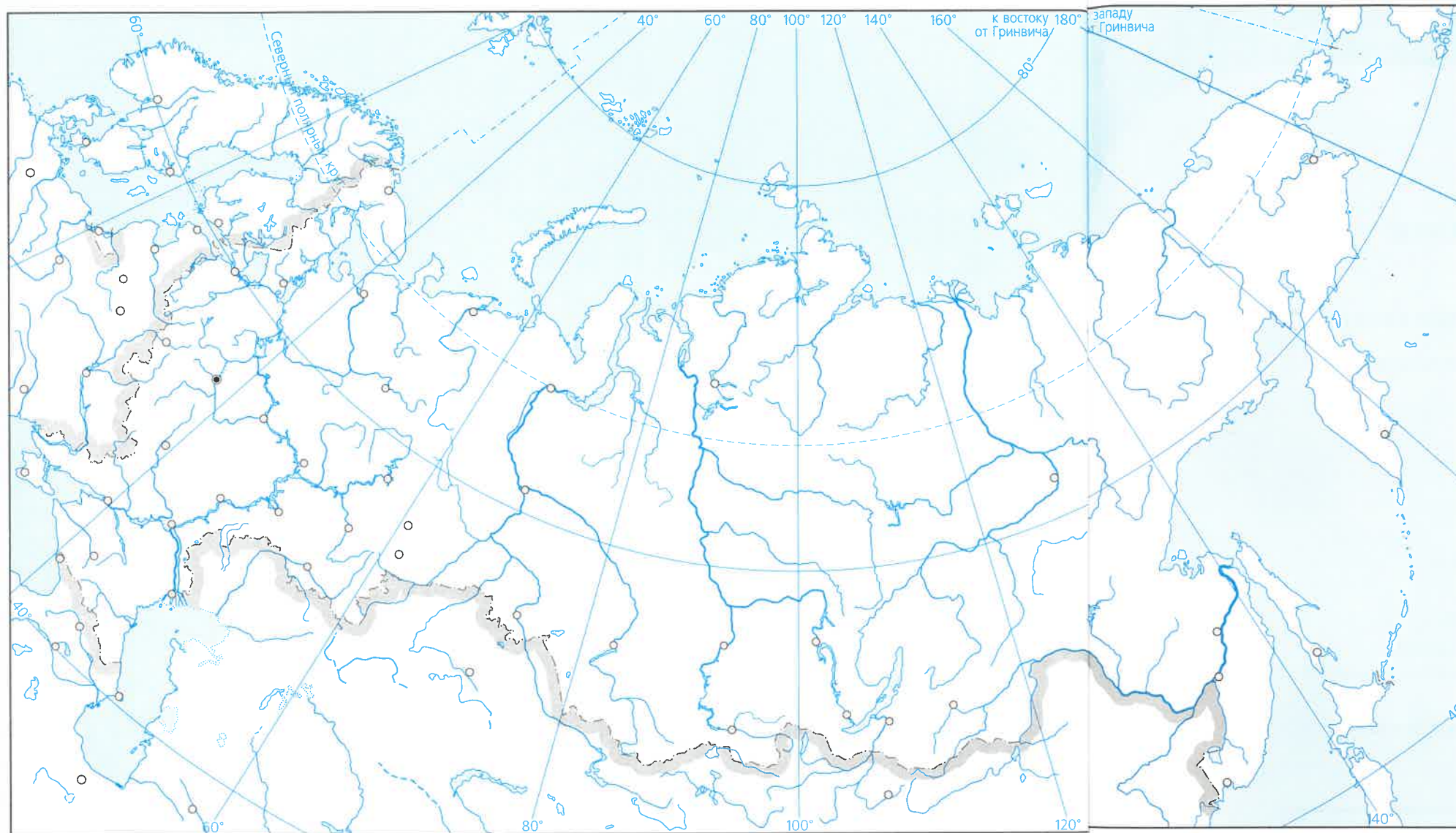
МАСШТАБ 1:25 000 000
 в 1 сантиметре 250 километров

Задания

1. Обозначьте границу между бассейнами океанов и бассейнами внутреннего стока. Подпишите названия двух крупнейших рек, расположенных в пределах каждого бассейна.
2. Обозначьте водосборный бассейн крупнейшей реки европейской части России, расположенной целиком в пределах страны. Условным знаком И покажите исток реки, знаком У — дельту. Подпишите названия её крупнейших притоков.
3. Подпишите название моря, береговая линия которого имеет самую малую протяжённость.
4. Подпишите названия каналов: Волго-Балтийский, Беломорско-Балтийский и Волго-Донской.
5. Подпишите на карте названия крупнейших морских и речных портов России. Подчеркните названия незамерзающих морских портов.


УСЛОВНЫЕ ОБОЗНАЧЕНИЯ

Blank area for the legend (УСЛОВНЫЕ ОБОЗНАЧЕНИЯ).



МАСШТАБ 1:30 000 000
 в 1 сантиметре 300 километров

300 0 300 600 900 1200 км



СОДЕРЖАНИЕ

Географическое пространство России

Мы и наши соседи 2–3

Районирование 4–5

Природное и культурное наследие 6–7

Население России

Воспроизводство населения 8–9

Размещение населения. Урбанизация 10–11

Миграции 12–13

Мозаика народов 14–15

Природа России

Тектоника. Рельеф. Полезные ископаемые 16–17

Климат 18–19

Моря и внутренние воды 20–21

Экологическая безопасность 22–23

Границы даны на октябрь 2022 г.

Учебное издание

Серия «Полярная звезда»

География. 8 класс. Контурные карты

Контурные карты составлены и подготовлены к изданию АО «Издательство «Просвещение» в 2017 г.

Автор-составитель А.В. Матвеев
 Редактор Е.В. Пилюгина
 Редактор карт М.Ю. Ширяева
 Художественное оформление серии О.Г. Иванова
 Корректор Н.В. Белозерова

Подписано в печать 08.08.2023. Формат 60×90/8. Печ. л. 3,0.
 Уч.-изд. л. 5,27. Тираж 16000 экз. Заказ № 24030ИДВ.

АО «Издательство «Просвещение»
 Российская Федерация, 127473, г. Москва,
 ул. Краснопролетарская, д. 16, стр. 3, этаж 4, помещение 1Н.
 Тел.: +7 (495) 789-30-40
 Адрес электронной почты «Горячей линии» — vopros@prosv.ru

Отпечатано в типографии ООО «Издательский Дом «Вояж»
 630048, г. Новосибирск, ул. Немировича-Данченко, 104